

# CUADERNO DE REPASO DE 1º ESO MÚSICA

## UNIDAD 1. SONIDO, RUIDO Y SILENCIO

1. Nombra las 4 cualidades del sonido.

2. ¿Qué es la altura?

3. Relaciona con flechas


Altura	Largo/corto
Timbre	Fuerte/débil
Intensidad	Voz/instrumento
Duración	Agudo/grave

4. ¿Por qué es posible diferenciar un violín de una guitarra sin verlos?

5. En el camino del Instituto a casa y enumera todos los ruidos que sueles escuchar.

## UNIDAD 2. LA ALTURA

1. Señala cuál de estas notas es más aguda




2. ¿Qué efecto producen las alteraciones?

3. ¿Qué alteración anula el efecto de las demás alteraciones?

4. ¿Se ponen alteraciones a los silencios?

5. Señala las alteraciones en este fragmento



### UNIDAD 3. LA DURACIÓN

1. ¿Cuántas corcheas son 1 blanca?
2. 2 blancas equivalen a .....redonda
3. Haz una composición en el siguiente pentagrama de 4 compases en 2/4

---



---



---



---

4. Escribe cómo es el silencio de negra y el de blanca
5. Di cuáles son los 3 compases de subdivisión binaria.

### UNIDAD 4. LA INTENSIDAD

1. Completa esta tabla

SIGNO DE DINÁMICA	NOMBRE	QUÉ INDICA
Mf		
	Piano	
		Muy débil
	Fortísimo	
	Mezzopiano	
		Fuerte

2. ¿Cómo se hace menor intensidad en un instrumento membranófono?

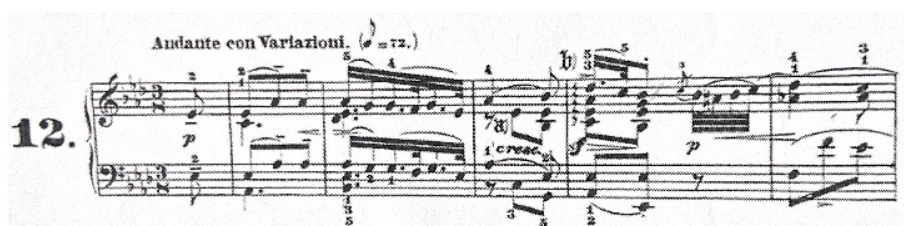
3. Completa el cuadro con los reguladores

NOMBRE	SIGNO	ABREVIATURA	SIGNIFICADO
		Cresc.	
		Dim.	

4. Ordena estas dinámicas de menos intensidad a más

mp          pp          mf          p          ff          f

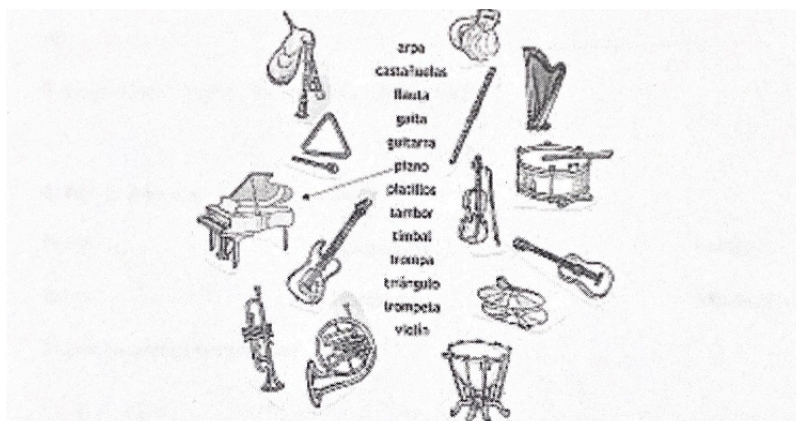
5. En este fragmento señala los signos de intensidad



## UNIDAD 5. EL TIMBRE

1. ¿Qué cuatro familias forman la orquesta?

2. Relaciona los siguientes instrumentos musicales con su nombre.



3. Nombra dos instrumentos de lengüeta doble

4. Clasifica el saxofón y la flauta travesera

5. Señala el instrumento que no pertenece a la familia de la percusión

